

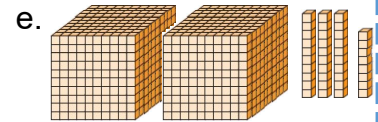
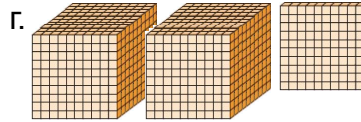
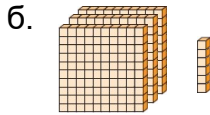
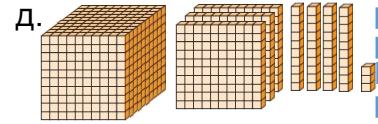
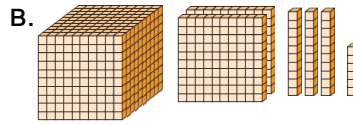
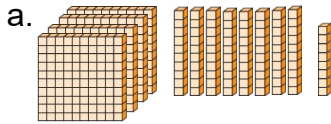
Сурагчийн нэр:

Эхэлсэн: он сар өдөр

Мянгат	Зуут	Аравт	Нэгж
1 мянгат	2 зуут	5 аравт	6 нэгж

Үгийн товчлол: мянгат (мян), зуут (з), аравт (а), нэгж (н)
1256

1 Тоог бичээрэй.



2 Дараах тоо тус бүрийн хувьд 2 гэсэн цифрийн утгыг бичээрэй.

а.

з	а	н
5	2	9

2 аравт

б.

з	а	н
2	0	3

в.

мян	з	а	н
4	6	9	2

г.

мян	з	а	н
2	0	5	1

3 Тоог орон ангийн хүснэгтэд бичээрэй.

а. Зуун далан тав

з	а	н

б. Таван зуун нэг

з	а	н

в. Мянга хорь

мян	з	а	н

г. Мянга хоёр

мян	з	а	н

4 Тоог бичээрэй.

а. Гурван зуун жаран долоо _____ в. Хоёр мянга наян гурав _____

б. Мянга нэг зуун ерэн тав _____ г. Есөн мянга нэг зуун зургаа _____

5 Тоог үгээр бичээрэй.

а. 856 _____

б. 1726 _____

в. 5047 _____

г. 3409 _____

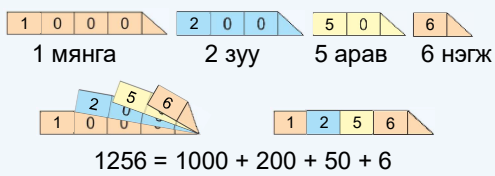
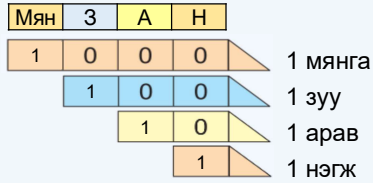
Дууссан:сарөдөр



Даалгавар	1	2	3	4	5
Өөрийн үнэлгээ					

Сурагчийн нэр:

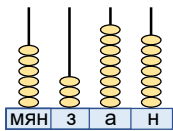
Эхэлсэн: он сар өдөр



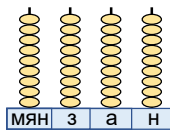
Үгийн товчлол: мянгат (мян), зуут (з), аравт (а), нэгж (н)

1 Тоог бичээрэй.

а. _____

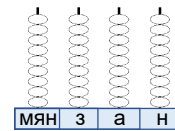


б. _____

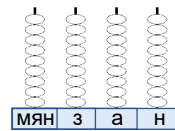


2 Дугуйг будаж, тоог дүрслээрэй.

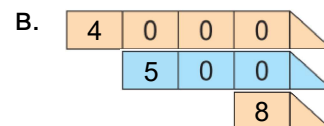
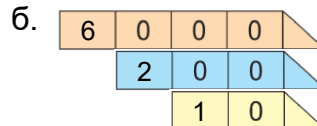
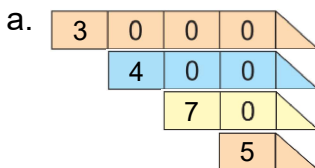
а. 4762



б. 8394

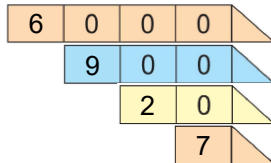


3 Тоог бичээрэй.

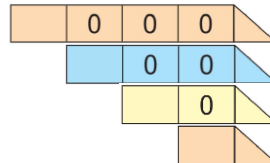


4 Тоог картан дээр бичээрэй. Тоог орны нэмэгдэхүүний нийлбэрт задлаарай.

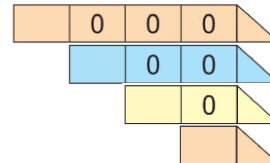
а. 6927



б. 2591



в. 5136



$6927 = 6000 + 900 + 20 + 7$

5 Тоог орны нэмэгдэхүүний нийлбэрт задлаарай.

а. $764 = \underline{\quad} + \underline{\quad} + \underline{\quad}$

в. $3702 = \underline{\quad}$

б. $2638 = \underline{\quad}$

г. $8051 = \underline{\quad}$

6 Тоог бичээрэй.

а. $400 + 70 + 2 = \underline{\quad}$

в. $9000 + 100 + 3 = \underline{\quad}$

б. $5000 + 200 + 90 + 5 = \underline{\quad}$

г. $2000 + 80 + 7 = \underline{\quad}$

7 Зүй тогтлыг олж, үргэлжлүүлэн бичээрэй.

а. 1, 2, 3, _____, 9

б. 10, 20, _____, 90

в. 100, 200, _____, 900

г. 1000, 2000, _____, 9000

д. 21, 23, 25, _____, 33 е. 165, 170, 175, _____, 190

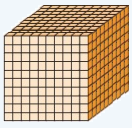
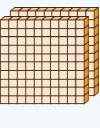
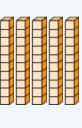

Дууссан:сарөдөр



Даалгавар	1	2	3	4	5	6	7
Өөрийн үнэлгээ	😊	😊	😊	😊	😊	😊	😊

Сурагчийн нэр:

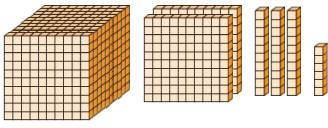
Эхэлсэн: он сар өдөр

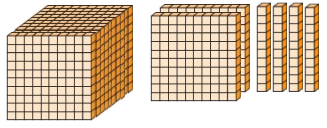
Мянгат	Зуут	Аравт	Нэгж
			
$1 = 1$	$2 = 2$	$5 = 5$	$6 < 8$

Тоонуудыг жишихдээ:

- Орны тоог харна. Олон оронтой тоо нь их байна.
- Орны тоо тэнцүү бол дээд орны нэгжүүдийг жишнэ. Нэгж ихтэй тоо нь их байна.
- Тэнцүү байвал дараагийн орны нэгжүүдийг жишнэ. Нэгж ихтэй нь их тоо байна зэргээр үргэлжлүүлнэ.

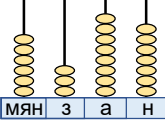
1 Тоог бичээд, жишээрэй.



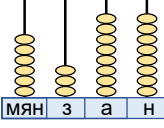


□

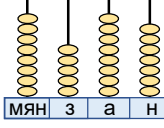
2 Тоонуудыг бичээд, жишээрэй.



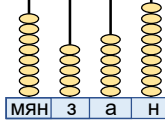
МЯН З А Н



МЯН З А Н



МЯН З А Н



МЯН З А Н

□

3 Тоонуудыг жишээрэй.

з	а	н
5	2	9

□

з	а	н
5	2	3

□

МЯН	з	а	н
2	3	7	2

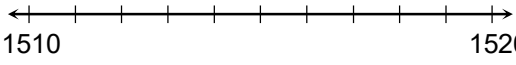
□

МЯН	з	а	н
2	3	6	8

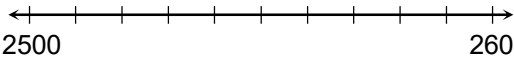
□

4 Тоон шулуун дээр тоонуудыг тэмдэглээд, жишээрэй.

а. 1517 □ 1513



б. 2530 □ 2560



5 Тоонуудыг жишээрэй.

а. 672 □ 675

в. 1679 □ 1675

д. 7021 □ 7012

ж. 2159 □ 2160

б. 735 □ 753

г. 1237 □ 1239

е. 3502 □ 3509

з. 8064 □ 8046

6 Тоонуудыг өсөх эрэмбээр бичээрэй.

а. 361, 364, 359

б. 1372, 1327, 1324

в. 4725, 4025, 4572

7 Тохирох тоог бичээрэй.

а. $361 < \underline{\hspace{1cm}}$

б. $6341 > \underline{\hspace{1cm}}$

в. $\underline{\hspace{1cm}} > 3061$

г. $\underline{\hspace{1cm}} < 3109$

Дууссан:сарөдөр

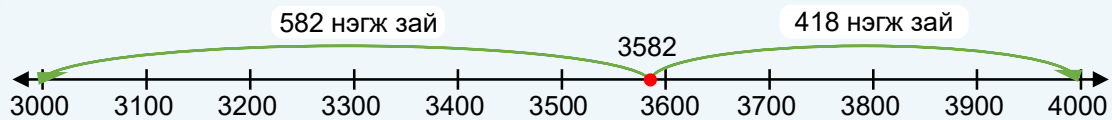
Даалгавар	1	2	3	4	5	6	7
Өөрийн үнэлгээ	😊	😊	😊	😊	😊	😊	😊

Сурагчийн нэр:

Эхэлсэн: он сар өдөр



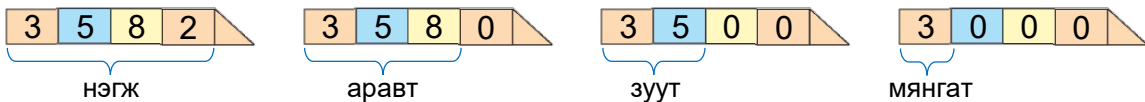
3582 нь аль мянгатад ойр вэ?



3582 нь 4000-д ойр байна.

1 Тоо тус бүрд хэдэн нэгж, аравт, зуут, мянгат байгааг бичээрэй.

Жишээ: 3582 нь 3582 нэгжээс тогтоно. 3582 нь 358 аравтыг агуулна.
3582 нь 35 зуутыг агуулна. 3582 нь 3 мянгатыг агуулна.



- а. 5471: _____ нэгж, _____ аравт, _____ зуут, _____ мянгат
- б. 2619: _____ нэгж, _____ аравт, _____ зуут, _____ мянгат
- в. 3504: _____ нэгж, _____ аравт, _____ зуут, _____ мянгат

2 Дугуйлсан тоо аль аравтад ойр байгааг холбон тэмдэглээрэй.

- а.

530	531	532	533	534	535	536	537	538	539	540
-----	-----	-----	-----	-----	-----	-----	-----	-----	-----	-----
- б.

140	141	142	143	144	145	146	147	148	149	150
-----	-----	-----	-----	-----	-----	-----	-----	-----	-----	-----
- в.

2350	2351	2352	2353	2354	2355	2356	2357	2358	2359	2360
------	------	------	------	------	------	------	------	------	------	------

3 Дугуйлсан тоо аль зуутадад ойр байгааг холбон тэмдэглээрэй.

- а.

5300	5310	5320	5330	5340	5350	5360	5370	5380	5390	5400
------	------	------	------	------	------	------	------	------	------	------
- б.

2100	2110	2120	2130	2140	2150	2160	2170	2180	2190	2200
------	------	------	------	------	------	------	------	------	------	------

4 Дугуйлсан тоо аль мянгатад ойр байгааг холбон тэмдэглээрэй.

- а.

3000	3100	3200	3300	3400	3500	3600	3700	3800	3900	4000
------	------	------	------	------	------	------	------	------	------	------
- б.

7000	7100	7200	7300	7400	7500	7600	7700	7800	7900	8000
------	------	------	------	------	------	------	------	------	------	------
- в.

9000	9100	9200	9300	9400	9500	9600	9700	9800	9900	10000
------	------	------	------	------	------	------	------	------	------	-------

Дууссан:сарөдөр



Даалгавар	1	2	3	4
Өөрийн үнэлгээ	😊	😊	😊	😊

Сурагчийн нэр:

Эхэлсэн: он сар өдөр



Тоог ямар нэг орноор тоймлохдоо тухайн орны ар дахь орны цифр:

а. 0, 1, 2, 3, 4 байвал тоймлох орны цифрийг хэвээр үлдээж, үүнээс хойших бүх цифрийг 0-ээр солино.

б. 5, 6, 7, 8, 9 байвал тоймлох орны цифрийг нэгээр нэмэгдүүлж, үүнээс хойших бүх цифрийг 0-ээр солино.

1 Тоо тус бүрийг тоймлон бичээрэй.

а. 5381, 2516, 9155-ыг аравтаар тоймлоорой: _____

б. 5381, 2516, 9155-ыг зуутаар тоймлоорой: _____

2 Аравтад ойр тоогоор тоймлон цээжээр нэмээрэй.

а. $434 + 218$. Аравтаар тоймлон нэмбэл ойролцоогоор $430 + 220 = 650$.б. $34 + 18$. Аравтаар тоймлон нэмбэл ойролцоогоор _____в. $234 + 118$. Аравтаар тоймлон нэмбэл ойролцоогоор _____

3 Аравтад ойр тоогоор тоймлон цээжээр хасаарай.

а. $434 - 218$. Аравтаар тоймлоод хасвал ойролцоогоор $430 - 220 = 210$ б. $34 - 18$. Аравтаар тоймлоод хасвал ойролцоогоор _____в. $234 - 118$. Аравтаар тоймлоод хасвал ойролцоогоор _____

4 Зуутадад ойр тоогоор тоймлон цээжээр нэмээрэй.

а. $574 + 318$. Зуутаар тоймлон нэмбэл ойролцоогоор $600 + 300 = 900$.б. $374 + 218$. Зуутаар тоймлон нэмбэл ойролцоогоор _____в. $2374 + 1218$. Зуутаар тоймлон нэмбэл ойролцоогоор _____

5 Зуутадад ойр тоогоор тоймлон цээжээр хасаарай.

а. $574 - 318$. Зуутаар тоймлон хасвал ойролцоогоор $600 - 300 = 300$.б. $374 - 218$. Зуутаар тоймлон хасвал ойролцоогоор _____в. $2374 - 1218$. Зуутаар тоймлон хасвал ойролцоогоор _____

6 315, 1428, 2156, 4736, 3762, 7101, 1098 тоонуудыг аравт, зуут, мянгатаар тоймлоорой.

а. Аравтаар тоймловол: _____

б. Зуутаар тоймловол: _____

в. Мянгатаар тоймловол: _____

Дууссан:сарөдөр



Даалгавар	1	2	3	4	5	6
Өөрийн үнэлгээ	😊	😊	😊	😊	😊	😊